



Nombre: _____

Institución: _____ Sección: _____

Insatisfactorio	Debe mejorar	Satisfactorio	Avanzado
0 - 7	8 - 13	14 - 17	18 - 20
<input type="radio"/>	<input type="radio"/>	<input type="radio"/>	<input type="radio"/>

Instrucciones:

Responda las preguntas rellenando el círculo de la letra que corresponde a la respuesta correcta.

1. ¿Cuántos gatitos hay en la figura?

- A. 6
- B. 8
- C. 9
- D. 10



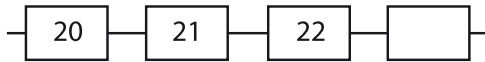
2. ¿Cuántos libros hay en la figura?

- A. 17
- B. 16
- C. 15
- D. 14























3. En la figura, ¿qué número sigue?


- A. 32
- B. 23
- C. 14
- D. 12



4. ¿Qué animal está en quinto lugar?

- A.     
- B.     
- C.     
- D.     

5. ¿En qué lugar llegó Ana a la escuela?



- A. 10°
- B. 12°
- C. 8°
- D. 7°

6. ¿Cuál es el número treinta y dos?

- A. 23
- B. 35
- C. 53
- D. 32

7. ¿Cuál es el número cincuenta y seis?

- A. 56
- B. 65
- C. 26
- D. 62

8. ¿Qué número es mayor que 12?

- A. 9
- B. 11
- C. 14
- D. 10

9. ¿Qué número es menor que 15?

- A. 11
- B. 15
- C. 16
- D. 18

10. ¿Qué número es mayor?

- A. 15
- B. 19
- C. 14
- D. 10

11. ¿Cuál es el resultado de $8 + 6$?

- A. 14
- B. 12
- C. 10
- D. 16

12. ¿Cuál es el resultado de $9 + 7$?

- A. 18
- B. 16
- C. 14
- D. 12

13. ¿Cuál es el resultado de $14 + 5$?

- A. 9
- B. 10
- C. 18
- D. 19

14. María tiene 12 globos y regaló 5, ¿cuántos globos le quedaron?

- A. 10
- B. 12
- C. 7
- D. 8







15. ¿Cuánto es $14 - 6$?

- A. 10
- B. 8
- C. 7
- D. 5

16. ¿Cuánto es $18 - 12$?

- A. 4
- B. 5
- C. 6
- D. 9

17. ¿Qué figura es un cuadrado?

- A. 
- B. 
- C. 
- D. 

18. ¿Cuánto dinero hay en total?



- A. L. 10
- B. L. 15
- C. L. 12
- D. L. 17

19. ¿Cuánto dinero hay en total?

- A. L. 4
- B. L. 8
- C. L. 10
- D. L. 12



20. ¿Cuánto dinero hay en total?



- A. L. 10
- B. L. 14
- C. L. 16
- D. L. 18